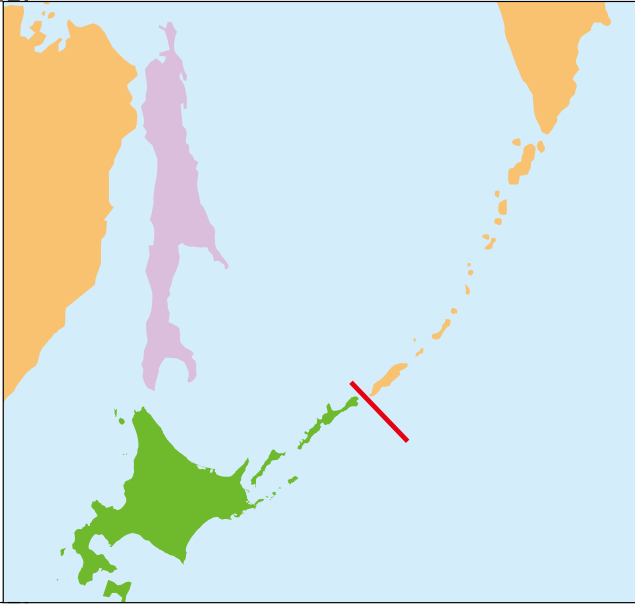


6ページの白地図に重ねてたしかめよう。

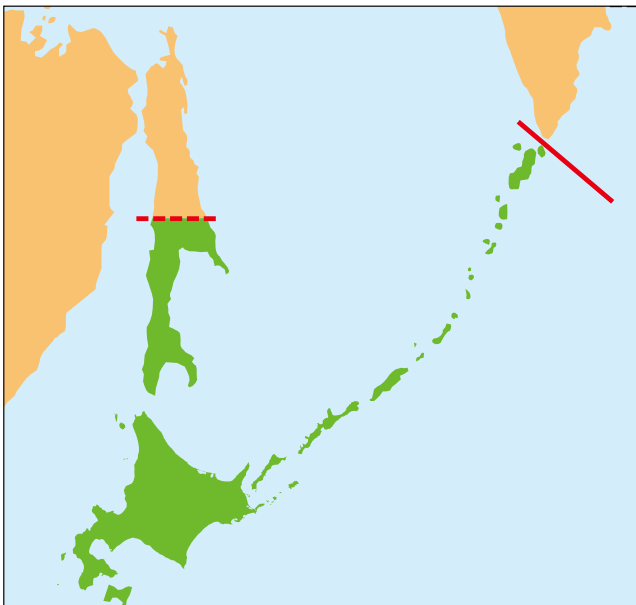
① 日露通好条約
にっろうつうこうじょうやく



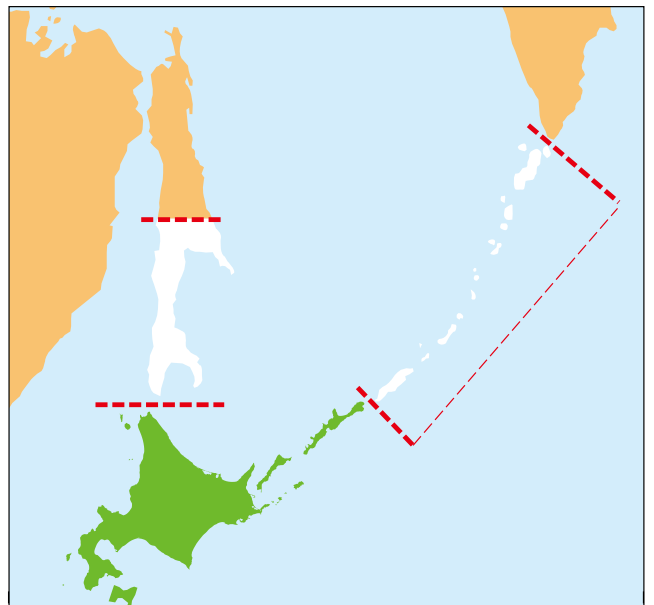
からふとちしまこうかんじょうやく
② 樺太千島交換条約



③ ポーツマス条約
ぽーずますじょうやく



へいわじょうやく
④ サンフランシスコ 平和条約



4つの図を番号順に重ねて、領土の移り変わりをたしかめましょう。
北方四島は、ずっと日本の領土だったことがわかると思います。
(切り取って同じ番号のところに貼っておくとよいでしょう)